

Time: 30 minutes

Al-Razi Monthly Test

English - 3

Total: 25 Marks
Syllabus: Unit- 1

School Name: _____
Student Name: _____ Roll Number: _____ Date: _____

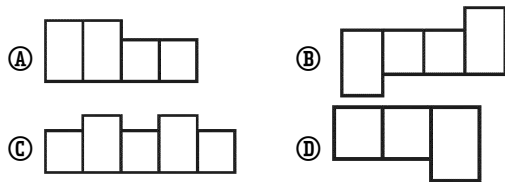
Q.1: Fill the bubble of the correct answer from the following choices. (1×12 = 12)

1. Identify the missing letter to complete the word "Classro_m."



- (A) a (B) o (C) e (D) u


2. Choose the correct box to write "child"



3. Tick the opposite of "sad."

- (A) happy (B) big (C) angry (D) poor

4. Identify the word that starts with the soft sound of "C".



5. Choose the correct "Alphabetical Order" from the following.

- (A) fun, activity, learn (B) activity, fun, learn
(C) learn, activity, fun (D) activity, learn, fun

6. Identify the expression of "sadness".

- (A) Have I won the medal?
(B) Alas! I have not won the medal.
(C) Hurrah! I have won the medal.
(D) Have I not won the medal?

7. Identify the proper noun in the following sentence.

My sister's name is Maryam.

- (A) sister (B) Maryam (C) name (D) my

8. Identify the tense used in the following sentence:

"I am playing cricket."

- (A) Present continuous tense
(B) Past continuous tense
(C) Future continuous tense
(D) Present perfect continuous tense


11. Identify the number of syllables in the word "fantastic".

- (A) One (B) Two (C) Three (D) Four

10. Pick out the consonant cluster.

- (A) st (B) sa (C) la (D) bu

◆ Look at the picture carefully and answer the MCQs No.11 and 12. (2 Marks)



11. How do the children look?

- (A) sad (B) happy (C) angry (D) afraid

12. Where are the children going?

- (A) home (B) musuem (C) school (D) zoo

◆ Match the words with their opposites. (5 Marks)

- | | |
|---------|-----------|
| good | rude |
| clean | unhealthy |
| polite | sad |
| healthy | dirty |
| happy | bad |

(B) Read the paragraph and answer the questions.

(4 Marks)

I come to school everyday to learn new things. It's fun to learn and play in school. There are boys and girls in my classroom. We listen to our teachers. There are a few rules for the classroom. My teacher has made a poster showing classroom rules so that we could follow them.

i. Why does the writer go to school?


ii. Who has made the poster?

(C) Use any FOUR of the following words in meaningful sentences of your own. (4 Marks)

Words	Sentences
Learn	
Good	
English	
Classroom	
Poster	

OR

Look at the picture and write answer to the following questions.



- How many kids are there in the Picture?
- Where are they going?
- Which building is shown in the Picture.

کل نمبر : 25 سلیبس : یونٹ 1، 2	الرازی ماہانہ ٹیسٹ واقفیت عامہ گریڈ 3	کل وقت : 30 منٹ
تاریخ	رول نمبر	سکول کا نام طالب علم کا نام

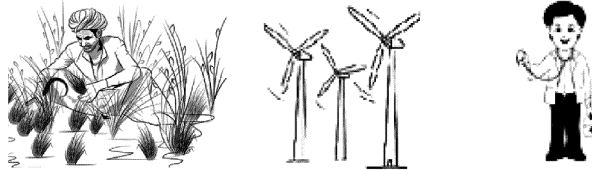
سوال 3: کالم ”اے“ میں دیے گئے وسائل کو کالم ”بی“ میں ان کی متعلقہ تصویر سے ملائیں۔
(4 نمبر)

کالم ”بی“	کالم ”اے“
	قدرتی وسائل
	انسانی وسائل
	سرمایہ کے وسائل
	مال و تجارت

سوال 4: مندرجہ ذیل سوالات میں سے کوئی سے چار سوالات کے مختصر جوابات دیں۔
(8 نمبر)

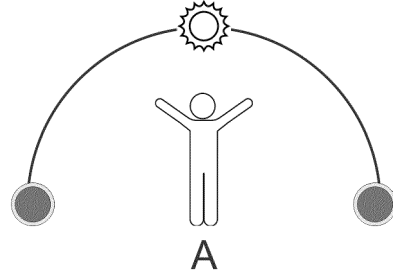
- زمین کے کس حصے میں دن ہوتا ہے اور کس حصے میں رات ہوتی ہے؟
- سائے کے بننے کے لیے کس چیز کا ہونا ضروری ہے؟
- وسائل کی کتنی اقسام ہیں؟ وسائل کی اقسام کے نام لکھیں۔
- معاشی انتخاب سے کیا مراد ہے؟
- مندرجہ ذیل وسائل کی پہچان کریں۔ (i) پانی (ii) جنگلات (iii) پٹرول

سوال 5: ذیل میں دیے گئے وسائل کی پہچان کریں اور ان کے نام لکھیں۔ (3 نمبر)




سوال 1: نیچے دیے گئے کثیر الانتخابی سوالات کے صحیح جواب کے دائرے کو بھریں۔ (5 نمبر)

- روشنی کے سائے کوئی غیر شفاف چیز آجائے تو بنتا ہے:
A سفر B سایہ C دھوپ D شفاف چیز
- زمین اپنے مدار میں گھومتی ہے:
A چاند کے گرد B مریخ کے گرد C سورج کے گرد D ستاروں کے گرد
- دی گئی تصویر میں لیبل شدہ حصہ 'A' کس سمت کو ظاہر کرتا ہے؟



- ایک دوسرے کے لیے مختلف کام سرانجام دینا کہلاتا ہے:
A مشرق B مغرب C جنوب D شمال
- دی گئی تصاویر میں سے سرمائے کے وسائل کی درست مثال کون سی ہے؟
A عزت B ذلت C فروخت D خدمت



سوال 2: دیے گئے الفاظ کی مدد سے خالی جگہیں پُر کریں۔ (5 نمبر)

فروخت کنندہ	قلت	وقت	مخالف	قومی پرندہ
-------------	-----	-----	-------	------------

- چکور پاکستان کا..... ہے۔
- سائے کی جسامت سے..... کا اندازہ لگایا جاسکتا ہے۔
- سایہ روشنی کی..... سمت میں بنتا ہے۔
- دکان دار ایشیا کی فروخت کرتا ہے..... کہلاتا ہے۔
- بازار میں چینی کی..... ہے۔

Time: 30 minutes

Al-Razi Monthly Test

Mathematics Grade 3

Total: 25 Marks

Syllabus: Unit 1

School Name: _____

Student Name: _____ Roll Number: _____ Date: _____

Q.1(a): Write in the Roman Numbers. (2 Marks)

رومن اعداد میں لکھیں۔

12 =

19 =

(b) Write any three of the given numbers in

ascending and descending orders. (6 Marks)

دیے گئے اعداد میں سے کوئی سے تین کو ترتیب صعودی اور نزولی میں لکھیں۔

(i) 71, 51, 91, 61

(ii) 346, 451, 321, 536

(iii) 476, 471, 472, 335, 345

(iv) 698, 278, 543, 231, 731



Q.2: Solve the given questions.

دیے گئے سوالات حل کریں۔

(a) Count the following objects and write even / odd

in the given box. (2 Marks)

درج ذیل اشیاء گنتیں اور دیے گئے خانے میں جفت یا طاق لکھیں۔

(i)	(ii)
	
<input type="text"/>	<input type="text"/>

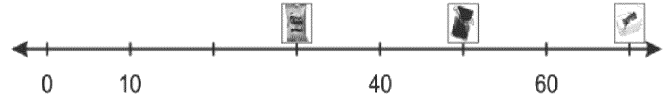
(b) Write the odd numbers between the given numbers. (4 Marks)

دیے گئے اعداد کے درمیان آنے والے طاق اعداد لکھیں۔

(i)	4 and اور 16
(ii)	20 and اور 34

Q.3: Write the values of objects on the given number line. (3 Marks)

دی گئی نمبر لائن پر اشیاء کی قیمتیں لکھیں۔



Q.4: Use symbols "<" , ">" and "=" in the given boxes. (2 Marks)

دیے گئے خانوں میں علامات "<" , ">" اور "=" کا استعمال کریں۔

(i) 857 857(ii) 619 817

Q.5(a): Round off the following numbers to the nearest 10 and 100. (4 Marks)

درج ذیل اعداد کو 10 اور 100 کے قریب ترین محدود کریں۔

Numbers	To the nearest 10	To the nearest 100
اعداد	10 کے قریب ترین	100 کے قریب ترین
26	<input type="text"/>	<input type="text"/>
327	<input type="text"/>	<input type="text"/>

(b) Round off 735 to the nearest 100 on the number line. (2 Marks)

735 کو 100 کے قریب ترین نمبر لائن پر محدود کریں۔

