

Time: 30 minutes

Al-Razi Monthly Test

English - 5

Total: 25 Marks
Syllabus: Unit 1 & 2

School Name: _____

Student Name: _____ Roll Number: _____ Date: _____

Q.1: Fill the bubble of the correct answer from the following choices. (1×12 = 12)

1. **Identify the word with a silent letter.**
 A kite B knife C nose D name
2. **Tick the describing word. (adjective)**
 A fresh B fruit C write D in
3. **Which of the following is a countable noun?**
 A tea B water C shop D air
4. **"July" is a/an:**
 A common noun B proper noun
 C collective noun D uncountable noun
5. **The synonym for "betterment" is:**
 A beauty B ugliness
 C improvement D hard work
6. **Tick the three-syllable word.**
 A beautiful B model
 C traits D personality
7. **Identify the irregular noun from the following.**
 A tree B table C bush D goose
8. **Clouds drifted across _____ sky:**
 A the B a C an D any
9. **My bag is _____ than yours.**
 A heavy B more heavy
 C heavier D heaviest
10. **Ali and Ahmad were not going to school _____ it was raining outside. Choose the correct conjunction.**
 A and B but C because D or

◆ **Read the paragraph carefully and answer the MCQs. No. 11 and 12.**

He (ﷺ) always spread the message of love and peace. No matter how hard the challenges were, neither he lost his patience nor scolded his enemies. The teachings and life of Hazrat Muhammad (ﷺ) are examples of patience for the entire mankind to follow.

11. **The given paragraph reveals _____ of the**

Rasool (ﷺ):

- A patience B generosity
 C justice D honesty

12. **Hazrat Muhammad (ﷺ) showed patience _____:**

- A on certain occasions B in wars
 C in peace D all through his life

Q.2: (A) (4 Marks)

Use any four of the following words in meaningful sentences.

Words	Sentences
inspiration	
personality	
honest	
spark	
enlighten	

(b) **Complete any THREE of the following sentences with suitable articles. (3 Marks)**

- a) Asia is _____ largest continent in the world. (an/the)
- b) My cousin is _____ doctor. (the/a)
- c) There is _____ orange on the table. (a/an)
- d) Bring me _____ bottle of water. (a/an)
- e) Sadia is _____ honest girl. (a/an)

Q.3: Write a letter to your father telling him about your success in the exam. (6 Marks)

OR

Write a Paragraph of FIVE sentences on "Prize Distribution Day" in your school.

Time: 30 minutes

Al-Razi Monthly Test

G. Science Grade 5

Total: 25 Marks

Syllabus: Unit 1

School Name: _____

Student Name: _____

Roll Number: _____

Date: _____

Q.1: Fill the bubble of the correct answer from the following choices. (1×13 = 13)

درج ذیل میں سے درست جواب کے دائرہ کو بھریں۔

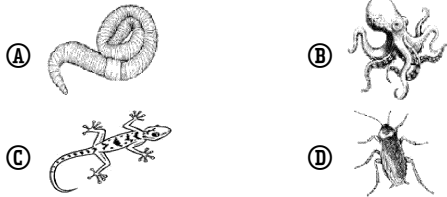
1. Which of the following helps to study the relationship between organisms?

مندرجہ ذیل میں سے کس کی مدد سے جانداروں کے مابین تعلق کا مطالعہ کیا جاتا ہے؟

- (A) Classification کلاسیفیکیشن (B) Regeneration ریجنریشن
(C) Reproduction ریپروڈکشن (D) Evolution ارتقاء

2. Which of the following animals belongs to the vertebrates group?

ذیل میں سے کون سا جانور درمیٹھ میں گروپ سے تعلق رکھتا ہے؟



3. Identify the invertebrate from the given images.

دی گئی تصاویر میں سے انورٹھریٹ کی شناخت کریں۔



4. Identify the group of animals which have loose skin and cannot live in deserts.

جانوروں کے ایسے گروپ کی شناخت کریں جس کی جلد ڈھیلی ہوتی ہے اور وہ ریگستان میں نہیں رہ سکتا۔

- (A) Mammals میملز (B) Amphibians اینفیبیئرز
(C) Birds پرندے (D) Reptiles ریپٹائلز

5. Which of the following animals have thick, coarse, and dry skin to protect the body?

مندرجہ ذیل میں سے کون سا جانور جسم کی حفاظت کے لیے موٹی، کھردری اور خشک جلد رکھتا ہے؟

- (A) Frog مینڈک (B) Salamander سلیمیمینڈر
(C) Newt نیوٹ (D) Snake سانپ


6. Which of the following animals lives on land but lays eggs in water?

مندرجہ ذیل میں سے کون سا جانور زمین میں رہتا ہے لیکن انڈے پانی میں دیتا ہے؟

- (A) Lizard لیزرڈ (B) Frog مینڈک
(C) Rohu روہو (D) Kiwi کیوی

7. Which of the following is an example of a reptiles?

ذیل میں سے ریپٹائلز کی مثال کون سی ہے؟



8. A fish respire through which organ?

مچھلی کس عضو سے سانس لیتی ہے؟

- (A) Gills گلز (B) Lungs پیچھڑے
(C) Air sacs ہوا کی تھیلیاں (D) Skin جلد

9. Organisms that are likely to become extinct in near future are called:

- (A) Endangered خطرے سے دوچار
(B) Distinct مختلف (C) gone ختم شد
(D) None of these مذکورہ کوئی نہیں

10. Which of the following is an aquatic animal?

درج ذیل میں سے کون سا آبی جانور ہے؟

- (A) Kiwi کیوی (B) Snake سانپ
(C) Hawk ہاک (D) Sponges سپونجز

11. Body of vertebrates is made of ____ main parts.

درمیٹھ میں جسم..... بنیادی حصوں کا بنا ہوتا ہے۔

- (A) 2 (B) 5 (C) 4 (D) 3


12. Which of the following have chlorophyll?

درج ذیل میں سے کون کلوروفیل رکھتا ہے؟

- (A) Algae اہلی (C) Mushroom مشروم
(B) Fungi فنجائی (D) Bacteria بیکٹیریا

13. Which of the following animals is a mammal?

ذیل میں سے کون سا جانور میمل ہے؟



Q.2: Answer the following short Questions (4 out of 5) (8 Marks)

دیے گئے مختصر سوالات کے جوابات دیں۔

1. State the importance of classification.

جانداروں کی گروہ بندی کی اہمیت بیان کریں۔

2. What are Dicot Plants?

ڈائکوٹ پودے کیا ہوتے ہیں؟

3. Define biodiversity.

بائیوڈائورسٹی کی تعریف کریں۔

4. Write any three measures of conservation of endangered species.

خطرے سے دوچار ہونے والے شیز کے تحفظ کے لیے کوئی سے تین اقدامات لکھیں۔

5. Write about sponges.

سپونجز کے متعلق لکھیں۔

Q.3: Write the differences between:

(a) Worms and Insects

ورمز اور حشرات

(b) Amphibians and Reptiles

اینفیبیئرز اور ریپٹائلز

(4 Marks)

Time: 30 minutes

Al-Razi Monthly Test Mathematics Grade 5

Total: 25 Marks

Syllabus: Unit 1

School Name: _____

Student Name: _____

Roll Number: _____

Date: _____

Q.1: Fill the bubble of the correct answer from the following choices. (1×13 = 13)

درج ذیل میں سے درست جواب کے دائرہ کو بھریں۔

1. One hundred fourteen thousand eight hundred twenty-four is written in numerals as:

ایک سو چودہ ہزار آٹھ سو چوبیس ہندسوں میں لکھا جاتا ہے۔

- (A) 104 824 (B) 148 024 (C) 140 824 (D) 114 824

2. Solve: 3 098 – 160 حل کریں:

- (A) 1 498 (B) 2 498 (C) 2 938 (D) 3 938

3. If due to Covid safety measure, only 25 students can sit in a classroom, then classrooms required for 150 students will be:

اگر کرونا وائرس احتیاطی تدابیر کے تحت صرف 25 طلبہ ایک کمرہ جماعت میں بیٹھ سکتے ہوں تو 150 طلبہ کے لیے کمرے درکار ہوں گے:

- (A) 2 (B) 4 (C) 6 (D) 8

4. Solve: 56140 ÷ 10 حل کریں:

- (A) 5 061 (B) 5 164 (C) 5 416 (D) 5 614

5. Solve: 4 570 × 100 حل کریں:

- (A) 4 570 (B) 45 700 (C) 457 000 (D) 4 570 000

6. Ahmad bought a bike for Rs 70000 and another bike for Rs 50000. How much amount did he spend?

احمد نے ایک موٹر سائیکل 70000 روپے میں اور دوسری موٹر سائیکل 50000 روپے میں خریدی۔ اس نے کل کتنی رقم خرچ کی؟

- (A) Rs. 70 000 (B) Rs. 80 000
(C) Rs. 120 000 (D) Rs. 140 000

7. The place value of 3 in the number 701 232 is.

701 232 میں 3 کی مقامی قیمت ہے۔

- (A) 28 (B) 4 (C) 30 (D) 3

8. The standard form of 4 000 + 300 + 20 + 1 is:

4 000 + 300 + 20 + 1 کی معیاری شکل ہے۔

- (A) 4 030 201 (B) 430 201
(C) 4 321 (D) 4 3201

9. Identify the rule of pattern in: پٹرن شناخت کریں:

400 000, 40 000, 4 000

- (A) addition جمع (B) subtraction تفریق
(C) multiplication ضرب (D) division تقسیم

10. 999, 463, 208 and 175 arrange them in ascending order.

999, 463, 208 اور 175 ترتیب سے چھوڑی میں ہے۔

- (A) 999, 208, 463, 175 (B) 175, 208, 463, 999
(C) 463, 999, 208, 175 (D) 208, 175, 999, 463

11. 868 689 – 395 108 = _____

- (A) 473 591 (B) 473 681 (C) 473 581 (D) 474 581

12. 34523 × 100 = _____

- (A) 345 230 0 (B) 44 523
(C) 34 423 (D) 43 530

13. When a number is divided by another number the leftover quantity is called:

دو اعداد کو تقسیم کرنے کے بعد بچ جانے والی مقدار کو کہتے ہیں:

- (A) quotient حاصل قسمت (B) remainder باقی
(C) addition جمع (D) subtraction تفریق

Q.2: Answer the following short Questions. (8 Marks)

دیے گئے مختصر سوالات کے جوابات دیں۔

1. Solve the following.

درج ذیل کو حل کریں۔

- (i) 591 727 + 702 929 (ii) 788 991 – 206 070

2. The government built 386 655 houses for the homeless in one year. The second year 24 521 fewer homes were built than the previous year. How many houses did the government build in both the years?

حکومت نے ایک سال میں بے گھر لوگوں کے لیے 386 655 گھر بنائے۔ دوسرے سال میں پہلے سال کے مقابلے میں 24 521 کم گھر بنائے گئے۔ حکومت نے دونوں سال میں کل کتنے گھر بنائے؟

3. A poultry farm sells 76 012 eggs in a day. How many eggs will poultry farm sell in 56 days?

ایک پولٹری فارم ایک دن میں 76 012 انڈے فروخت کرتا ہے۔ پولٹری فارم 56 دن میں کتنے انڈے فروخت کرے گا؟

4. Identify the rules of given pattern and also find the next 3 terms.

دیے گئے نمونے کے اصول کی شناخت کریں اور اگلی 3 رقم بھی معلوم کریں۔

560, 540, 520, 500, _____, _____, _____

Q.3: A factory owner gave Rs 448 870 as reward to his employees in one year. In the second year Rs 437 995 were given as reward. (4 Marks)

ایک فیکٹری کے مالک نے ایک سال میں 448 870 روپے بونس کے طور پر اپنے ملازموں کو دیے۔ دوسرے سال میں 437 995 روپے انعام کے طور پر دیے گئے۔

(a) What is the total amount given as reward in both the years? دونوں سال میں کل کتنی رقم انعام کے طور پر دی گئی؟

(b) In which year the factory owner gave less reward and how much less? کس سال فیکٹری کے مالک نے کم انعام دیا اور کتنا کم دیا؟

کل نمبر : 25 سلیبس: سبق 1، 2، 3	الرازی ماہانہ ٹیسٹ اُردو گریڈ 5	کل وقت : 30 منٹ
تاریخ	رول نمبر	طالب علم کا نام
		سکول کا نام

10- مندرجہ بالا پیرا گراف سبق سے لیا گیا ہے:

① رحمت عالم خاتم النبیین ﷺ سے ② میری پہچان ہے تو سے

③ جو وعدہ کرو سو پورا کرو سے ④ ہمارے پیشے سے

11- صحابہ رضی اللہ تعالیٰ عنہم نے کس چیز کے بچے اٹھالیے؟

① کبوتر کے ② فاختہ کے ③ مرغی کے ④ چڑیا کے

12- نبی کریم خاتم النبیین ﷺ بہت مہربان تھے:

① پرندوں پر ② جانوروں پر ③ انسانوں پر ④ مذکورہ تمام

(حصہ دوم)

سوال 2: ”اللہ ایک ہے“ کے عنوان پر مضمون لکھیں۔

یا ”حضرت محمد رسول اللہ خاتم النبیین ﷺ“ کے عنوان پر مضمون لکھیں۔

(مضمون کم از کم 150 الفاظ پر مشتمل ہو۔) (7 نمبر)

یا ”جھوٹ کی سزا“ کے عنوان پر کہانی لکھیں۔

(حصہ سوم)

سوال 3: چچا کے نام تھے کا شکریہ ادا کرنے کے لیے خط لکھیں۔ (6 نمبر)

یا ہیڈ ماسٹر/ ہیڈ مسٹریس کے نام درخواست برائے فیس معافی لکھیں۔

(حصہ اول)

سوال 1: نیچے دیے گئے کثیر الانتخابی سوالات کے صحیح جواب کے دائرے کو بھریں۔ (12 نمبر)

1- ”خائق“ درست اعراب والا لفظ ہے:

① خَائِق ② خَائِق ③ خَائِق ④ خَائِق

2- ”فلک“ کا معانی ہے:

① آسمان ② زمین ③ چاند ④ سورج

3- ”مجھے پاکستان کا ہر شہر پسند ہے۔“ اسم معرف کی نشان دہی کریں۔

① پاکستان ② شہر ③ پسند ④ ہے

4- جملے میں اسم معرف ہے: ”ہم نے وہیل مچھلی دیکھی۔“

① مچھلی ② وہیل ③ دریا ④ سمندر

5- ”اُجیرا“ کے معانی ہیں:

① اندھیرا ② روشن ③ صبح ④ شام

6- دو یادوں سے زائد حروف کو خاص ترتیب سے لکھنے سے بنتا ہے:

① لفظ ② حرف ③ اسم ④ فعل

7- درست تلفظ کی نشان دہی کریں:

① مُشَقَّت ② مُشَقَّت ③ مُشَقَّت ④ مُشَقَّت

8- درج ذیل میں سے درست مہمل کا جوڑا ہے:

① چائے۔ پانی ② دانا۔ وانا

③ آنا۔ جانا ④ کھانا۔ پینا

9- معانی کے لحاظ سے لفظ کی اقسام ہیں:

① ایک ② دو ③ تین ④ چار

☆ درج ذیل پیرا گراف پڑھ کر سوالات نمبر 10، 11 اور 12 کے درست جواب دیں۔

نبی کریم خاتم النبیین ﷺ انسانوں ہی نہیں بلکہ بے زبان جانوروں پر بھی بہت مہربان

تھے اور ان پر کسی قسم کا ظلم یا زیادتی ہوتے نہیں دیکھ سکتے تھے۔ حضرت محمد رسول اللہ خاتم النبیین

ﷺ نے جانوروں اور پرندوں کا خیال رکھنے کی نصیحت کی ہے۔ ایک مرتبہ صحابہ رضی اللہ تعالیٰ

عنہم نے چڑیا کے گھونسلے سے اُس کے بچے اٹھالیے۔ چڑیا سر پر منڈلا لگی۔ اللہ کے آخری نبی

حضرت محمد رسول اللہ خاتم النبیین ﷺ نے پوچھا کہ یہ چڑیا کیوں پریشان ہے؟ صحابہ رضی

اللہ تعالیٰ عنہم نے جواب دیا: ”یا رسول اللہ خاتم النبیین ﷺ، ہم نے اس کے بچے اٹھالیے

ہیں۔“ آپ خاتم النبیین ﷺ نے فرمایا ”جاؤ! بچوں کو گھونسلے میں واپس رکھ دو۔“ یہ سُن

کر صحابہ رضی اللہ تعالیٰ عنہم نے فوراً چڑیا کے بچے گھونسلے میں واپس رکھ دیے۔