

**Model Paper for Class 2**

Quality Assurance and Improvement Department (QAID)

We Assure Quality Education

**Class: 2****GRADE: 2<sup>ND</sup>**

This is a sample paper for introduction of paper pattern only. PEF partners are encouraged to give the practice tests to students on the same pattern.

Roll No. _____	Signature of Supervisor _____
----------------	-------------------------------

**GENDER**  
Please tick  one

**Male  Female**

**Total Time: 2Hours**

**Total Marks: 100**

Subject	Total Marks	Obtained Marks
Mathematics	25	
English	25	
Urdu	25	
واقفیت عامہ	25	
<b>Total</b>	<b>100</b>	

**ضروری ہدایات**

- 1- حاضری شیٹ کے مطابق صرف مقرر کی گئی جگہ پر اپنا رول نمبر تحریر کریں۔
- 2- طلباء (Male) والے اور طالبات (Female) والے ڈبے پر نشان لگائیں۔
- 3- ہر سوال لازمی ہے اور تمام مضامین کے یکساں نمبر ہیں۔
- 4- سوال حل کرنے سے پہلے دی گئی ہدایات غور سے پڑھ لیں۔
- 5- امتحانی مرکز میں طلباء و طالبات کے پاس کلپ بورڈ اور پین کے علاوہ کچھ اور نہیں ہونا چاہیے۔ تمام سوالات کو حل کرنے اور روف عمل کرنے کے لیے جگہ پرچہ میں موجود ہے لہذا کسی قسم کا اضافی صفحہ لانے کی ضرورت نہیں ہے۔
- 6- کچی پینسل کا استعمال ہرگز نہ کریں۔ صرف نیلی یا سیاہ بال پوائنٹ، پوائنٹ یا انک پین کا استعمال کریں۔
- 7- کاٹ کر یا کسی بھی طریقہ سے مٹا کر لکھے گئے جوابات غلط تصور ہوں گے۔
- 8- مقررہ وقت کے علاوہ کوئی اضافی ٹائم نہیں دیا جائے گا۔
- 9- نقل سے گریز کریں ورنہ آپ کا پرچہ کنینسل کر دیا جائے گا۔
- 10- موبائل فون کا استعمال منع ہے۔
- 11- صرف نہم اور دہم کلاسز کو کیلکولیٹر استعمال کرنے کی اجازت ہے۔
- 12- پرچہ جلد حل کرنے کی صورت میں اطمینان سے بیٹھیں اور مقررہ وقت کے ختم ہونے کا انتظار کریں۔



**PUNJAB  
EDUCATION FOUNDATION**



**MATHEMATICS**

Total Marks: 25

**SECTION – I**

10 Marks

(1× 3=3)

**Q.No.1. Write the number with the help of values.**

Example مثال	$136 = \underline{130} + \underline{30} + \underline{6}$
(i)	$\boxed{\phantom{000}} = \underline{500} + \underline{50} + \underline{0}$
(ii)	$\boxed{\phantom{000}} = \underline{200} + \underline{70} + \underline{8}$
(iii)	$\boxed{\phantom{000}} = \underline{300} + \underline{20} + \underline{5}$

(1× 4=4)

**Q.No.2. Count in 100s and complete the sequence.**

(i)	80, 180, 280, _____, _____
(ii)	400, 500, _____, 700, _____
(iii)	10, 110, _____, _____, 410
(iv)	257, 357, _____, _____, 657

(1× 3=3)

**Q.No.3. Encircle the biggest number.**

(i)	98 , 73 , 89
(ii)	359 , 467 , 549
(iii)	843 , 780 , 684

**SECTION – II****8 Marks****(2 × 2 = 4)****Q.No.1. Add the following numbers.**

<p>(i)</p> <table style="margin-left: auto; margin-right: auto;"> <tr><td style="padding: 0 10px;"><i>H</i></td><td style="padding: 0 10px;"><i>T</i></td><td style="padding: 0 10px;"><i>O</i></td></tr> <tr><td style="padding: 0 10px;">3</td><td style="padding: 0 10px;">2</td><td style="padding: 0 10px;">6</td></tr> <tr><td style="padding: 0 10px;">–</td><td style="padding: 0 10px;">2</td><td style="padding: 0 10px;">8</td></tr> <tr><td style="padding: 0 10px;">4</td><td></td><td></td></tr> <tr><td colspan="3" style="text-align: center;">_____</td></tr> </table>	<i>H</i>	<i>T</i>	<i>O</i>	3	2	6	–	2	8	4			_____			<p>(ii)</p> <table style="margin-left: auto; margin-right: auto;"> <tr><td style="padding: 0 10px;"><i>H</i></td><td style="padding: 0 10px;"><i>T</i></td><td style="padding: 0 10px;"><i>O</i></td></tr> <tr><td style="padding: 0 10px;">4</td><td style="padding: 0 10px;">5</td><td style="padding: 0 10px;">9</td></tr> <tr><td style="padding: 0 10px;">+</td><td style="padding: 0 10px;">2</td><td style="padding: 0 10px;">9</td></tr> <tr><td style="padding: 0 10px;">6</td><td></td><td></td></tr> <tr><td colspan="3" style="text-align: center;">_____</td></tr> </table>	<i>H</i>	<i>T</i>	<i>O</i>	4	5	9	+	2	9	6			_____		
<i>H</i>	<i>T</i>	<i>O</i>																													
3	2	6																													
–	2	8																													
4																															
_____																															
<i>H</i>	<i>T</i>	<i>O</i>																													
4	5	9																													
+	2	9																													
6																															
_____																															

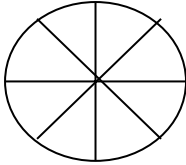
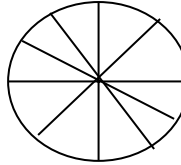
**(2 × 2 = 4)****Q.No.2. From the following questions solve any TWO.**

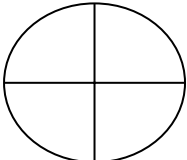
<p>(i)</p> $6 \times 2 = \underline{\hspace{2cm}}$	<p>(ii)</p> $40 \div 4 = \underline{\hspace{2cm}}$
<p>(iii)</p> $7 \times 3 = \underline{\hspace{2cm}}$	

**SECTION – III****7 Marks****Q.No.1. Write the numbers in words.****(1 × 4 = 4)**

Numbers (اعداد)	Words (الكلمات)
275	
432	
560	
345	

**Q.No.2. Colour the shape for the given fraction.****(1 × 3 = 3)**

(i)  $\frac{5}{8}$   (iii)  $\frac{7}{10}$  

(ii)  $\frac{3}{4}$  

**ENGLISH**

Total Marks: 25

**SECTION – I****8 Marks**

Q.No.1.

(a) Fill any **FOUR** of the missing letters to complete the words.

(4)

draw____ng	g____ests	sis____er	hon____sty	so__l
------------	-----------	-----------	------------	-------

(b) Change numbers of these nouns by adding 's' or 'es'.

(4)

Singular	Plural
flower	_____
bus	_____
box	_____
bird	_____

**SECTION – II****8 Marks**

Q.No.1.

(a) Circle the correct spelling in each row.

(4)

Example:

wiicked

**wicked**

wickeed

suppose	sappose	supposee
cruuch	crouch	crouuch
sating	seting	sting
sniff	snif	sanif

(b) Choose any **FOUR** and write the words in correct boxes. (4)

nephew	daughter	woman	princess	man
--------	----------	-------	----------	-----

Masculine	Feminine

**SECTION – III**

**9 Marks**

**Q.No.1.**

(a) Fill in the given paragraph with ‘is’, ‘am’ or ‘are’. (4)

I am in grade two. I \_\_\_\_\_ seven years old. I \_\_\_\_\_ a good student. I have two friends. My mother is \_\_\_\_\_ doctor and my father \_\_\_\_\_ a lawyer. They are good people.

(b) Write **FIVE** sentences about ‘Bee’ with the help of the word bank. (5)



Insect	sting	colour	flower	hive
--------	-------	--------	--------	------

---



---



---



---



---

## اردو

کل نمبر: 25

### حصہ اول (نمبر: 10)

نوٹ: حصہ اول میں کتاب کی مشقوں میں سے مہارت "آپ نے کیا سمجھا" میں سے کوئی بھی سوال پوچھا جاسکتا ہے۔

مندرجہ ذیل سوالات میں سے کوئی سے تین کے مختصر جوابات دیں۔ (2x3)=6

سوال الف: کس کی ذات کو رحمت والا کہا گیا ہے؟

سوال ب: حمد کس نظم کو کہتے ہیں؟

سوال ج: آپ ﷺ ہمارے لیے کون سی کتاب لائے؟

سوال د: آپ خاتم النبیین ﷺ بچوں سے کیسا سلوک فرماتے تھے؟

خالی جگہ پر کریں۔ (4)

الف	حضرت محمد رسول اللہ خاتم النبیین ﷺ اللہ تعالیٰ کے آخری ----- ہیں۔
ب	حضرت محمد رسول اللہ خاتم النبیین ﷺ موسم کا نیا پھل سب سے پہلے ----- کو دیتے۔
ج	جو چھوٹوں پر شفقت نہیں کرتا اور ----- کی عزت نہیں کرتا، اس کا ہم سے کوئی تعلق نہیں۔
د	حضرت محمد رسول اللہ خاتم النبیین ﷺ بہت ----- تھے۔

### حصہ دوم (نمبر: 10)

نوٹ: حصہ دوم میں کتاب کی مشقوں میں سے مہارتوں "قواعد سیکھیں" اور "لفظوں کا کھیل" میں سے کوئی بھی سوال پوچھا جاسکتا ہے۔

درج ذیل واحد الفاظ کی جمع لکھیں۔ (4)

واحد	جمع
پزندہ	
طوطا	
انڈا	
نام	

درج ذیل الفاظ کو ان کے متضاد سے ملائیں۔ (3)

متضاد	الفاظ
سونا	دن
دور	مشکل
آسان	جاگنا

حرف ملا کر لفظ بنائیں اور سامنے لکھیں۔ (3)

	م+ح+ب+ب+ت
	ر+ح+م+ت
	ر+ح+ل+ت

(نمبر: 5)

حصہ سوئم

نوٹ: حصہ سوئم میں خط، درخواست اور مضمون کے علاوہ کتاب کی مشقوں میں سے مہارت "کچھ نیا لکھیں" میں سے کوئی بھی سوال پوچھا جا سکتا ہے۔  
مثال کے طور پر دیے ہوئے الفاظ استعمال کرتے ہوئے اللہ تعالیٰ کی نعمتوں کے بارے میں پانچ جملے لکھیے۔

ماں باپ	ہاتھ پاؤں
آنکھیں	کان
کھانے پینے کی چیزیں	

## واقفیت عامہ

کل نمبر: 25

### SECTION – I

10 Marks

سوال نمبر 1:

الف: درج ذیل میں سے درست جواب کے گرد دائرہ لگائیں۔ (5)

-1 پاکستان کے دارالحکومت کا کیا نام ہے؟	
(ا) پشاور	(ب) اسلام آباد
(ج) ملتان	(د) کوئٹہ
-2 مسلمان عید الفطر کب مناتے ہیں؟	
(ا) 10 ذوالحجہ	(ب) یکم شوال
(ج) 12 ربیع الاول	(د) 20 ذوالحجہ
-3 پودے کی خوراک کون بناتا ہے؟	
(ا) پھول	(ب) پتا
(ج) جڑ	(د) تنہا
-4 خرگوش کہاں رہتا ہے؟	
(ا) گھونسلے میں	(ب) پہاڑوں میں
(ج) بھٹ میں	(د) پانی میں
-5 ڈینگلی بھارکس کی وجہ سے پھیلتا ہے؟	
(ا) مکھی	(ب) مچھر
(ج) چوٹی	(د) لال بیگ



ب: کالم الف کو کالم 'ب' سے ملائیں۔ (5)

کالم (ب)	کالم (الف)
سرکین	جرام کی روک تھام کے لیے
پولیس سٹیشن	تعلیم کے لیے
عدالتیں	علاج کے لیے
سکول	انصاف کے لیے
ہسپتال	آمدورفت کے لیے

**SECTION – II**

10 Marks

سوال نمبر 1: مندرجہ ذیل سوالات میں سے کوئی سے پانچ سوالات کے مختصر جواب دیں۔ (5×2=10)

1- صوبہ پنجاب میں کونسی زبان بولی جاتی ہے؟

2- کوئی سی دو سہولیات لکھیں جو آپ کو شہر میں میسر ہیں اور گاؤں میں نہیں۔

3- پاکستان کے پرچم میں سبز رنگ کس چیز کو ظاہر کرتا ہے؟

4- شہریوں کے کوئی سے دو حقوق لکھیں۔

5- دیگر مذاہب کے کوئی سے دو تہواروں کے نام لکھیں۔

6- روشنی اور حرارت کا سب سے بڑا ذریعہ کون سا ہے؟

**SECTION – III**

5 Marks

سوال نمبر 1: دیئے گئے الفاظ کی مدد سے خالی جگہ پر کریں۔ (5)

گھر	خوشیاں	سندھی	صاف ستھرا	پانی
-----	--------	-------	-----------	------

I.	تہوار کے موقع پر لوگ ----- مناتے ہیں۔
II.	دیہات میں ----- کچے ہوتے ہیں۔
III.	زمین کی تہ میں بھی ----- کا ذخیرہ موجود ہے۔
IV.	دیہات میں ماحول ----- ہوتا ہے۔
V.	صوبہ سندھ کے لوگ ----- زبان بولتے ہیں۔